



우리는 뉴스를 보면서 경제 성장, 물가, 실업, 환율 등이 어떻게 변화하는지를 알 수 있다. 이러한 국민 경제의 변화는 일상생활뿐만 아니라 우리의 삶에도 큰 영향을 미친다. 이 단원에서는 세계화의 흐름 속에서 국제 거래가 이루어지는 사례를 찾아보고, 국내 총생산, 물가, 실업, 환율 등과 관련한 주요 경제 지표의 변화가 우리 생활에 미치는 영향을 살펴보자.





# 4

## 우리나라 경제와 세계화

- 1 경제 성장과 국내 총생산
- 2 물가 변동과 실업
- 3 국제 거래와 환율

• 이 단원에서 배우고 싶은 내용을 써 보자.



---

---




# 경제 성장과 국내 총생산

## 미리보기

- 경제 성장
- 국내 총생산
- 국내 총생산의 한계

## 생각 쑥



Q. 경제가 성장했다는 것은 무엇을 통해 알 수 있을까?

## 1 경제 성장은 우리 생활에 어떤 영향을 미칠까?

| 학습 목표 | 우리나라의 경제 성장 전후 모습을 비교하여 국내 총생산 증가로 달라진 생활 모습을 토의할 수 있다.

**경제 성장의 의미** 현재 우리나라 사람들은 보릿고개를 경험하던 과거보다 훨씬 윤택하게 생활한다. 오늘날에는 먹을 것이 없어 굶주리는 모습을 찾아보기 어렵고, 텔레비전이나 스마트폰도 대중화되었다. 이는 우리나라의 경제가 성장하여 생활 수준이 향상되었기 때문이다. 이처럼 **경제 성장**은 국가의 경제 규모가 커지고 생산 능력이 향상되는 것을 말한다.

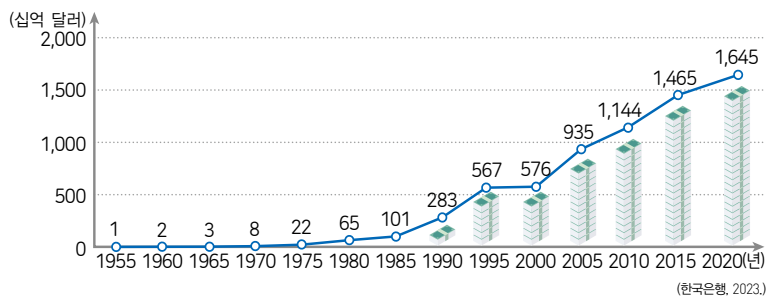
\* **보릿고개** 묵은 곡식은 거의 떨어지고, 보리는 아직 여물지 않아 식량 사정이 가장 어려웠던 때를 비유적으로 이르는 말이다.

**경제 성장의 영향** 우리나라는 경제 성장으로 재화와 서비스의 생산량이 증가했고, 일자리가 늘어났다. 이에 따라 국민의 평균 소득이 높아지며 물질적으로 풍요롭게 생활할 수 있게 되었다. 또 이전보다 질 높은 교육과 의료 혜택을 누릴 수 있게 되었으며, 다양한 문화생활을 할 수 있게 되어 삶의 질이 향상되었다.

그러나 경제 성장 과정에서 산업 간, 지역 간 격차가 발생했으며, 경제 성장의 혜택이 적절하게 분배되지 않아 빈부 격차가 커졌다. 경제활동이 급격히 증가하면서 자원 고갈과 환경 오염도 심각해졌다.

**경제 성장의 측정** 일반적으로 한 국가의 경제 성장 정도는 국내 총생산(GDP)의 변화를 통해 측정한다. 우리나라는 경제 규모가 크게 성장하였으며 국내 총생산이 꾸준히 증가하고 있다.

우리나라 국내 총생산의 변화



1950년대

2020년대

음식

음식을 배급받을 정도로 굶주리는 사람들이 많았단다.



먹을 것이 풍족해져서 비만을 걱정하게 되었어요.



통신

전화기는 사치품이었고, 전화 교환원이 연결해 줘야 통화할 수 있었지.



스마트폰이 보편화되었고, 언제 어디서나 영상 통화도 할 수 있어요.



국제적 위상

외국으로부터 필요한 물건을 원조 받기도 했단다.



다른 나라에 도움을 주고 있으며, 우리나라의 국제적 위상이 높아졌어요.



- 60쪽의 그래프를 참고하여 1950~1960년대와 2020년의 국내 총생산이 어떻게 달라졌는지 비교한 후 국내 총생산의 증가가 우리 생활에 미치는 영향을 토의해 보자.
- 위 자료처럼 경제 성장으로 달라진 생활 모습을 보여 주는 사진을 찾고, '경제 성장 사진 전시회'를 열어 보자.

**2** **필집이** 교육, 의료, 문화생활 등 주제를 선정하고, 경제 성장 이전의 사진과 경제 성장 이후의 사진을 비교하여 사진 해설을 작성한다.

**확인**

- 1 국가의 경제 규모가 커지고 생산 능력이 향상되는 것을 ( )이라고 한다.
- 2 우리나라는 경제가 성장하며 과거보다 물질적 풍요를 누릴 수 있게 되었다. (○, ×)

## 2 국내 총생산이 지닌 의의와 한계는 무엇일까?

| 학습 목표 | 국내 총생산의 의의와 한계를 설명할 수 있다.

### 보충+ 1인당 국내 총생산

국내 총생산으로는 국민 개개인의 소득이나 생활 수준을 파악하기 어렵다. 그래서 전체적인 경제 규모를 파악할 때는 국내 총생산을 이용하고, 국민의 평균적인 소득 수준을 비교할 때는 1인당 국내 총생산을 활용한다.

$$\text{1인당 국내 총생산} = \frac{\text{국내 총생산}}{\text{인구수}}$$



⊙ 가정에서 이루어지는 육아나 가사 활동은 국내 총생산에 반영되지 않지만, 육아 도우미나 가사 도우미의 활동은 국내 총생산에 포함된다.

**국내 총생산의 의의** 국내 총생산(GDP)은 일정 기간 동안 한 나라 안에서 새롭게 생산한 최종 생산물의 시장 가치를 합한 것이다. 국내 총생산이 증가했다는 것은 생산하고 소비하는 재화와 서비스 양이 증가했다는 것으로, 경제활동이 활발해지고 경제 규모가 커졌음을 의미한다. 따라서 국내 총생산은 한 나라의 경제 규모를 생산 측면에서 잘 나타내는 지표이자 국민 전체의 소득을 파악하는 데 유용한 지표로 활용된다.

**국내 총생산의 한계** 국내 총생산은 다음과 같은 한계가 있다.

첫째, 시장에서 거래되는 재화와 서비스의 가치만 측정한다. 대가를 받지 않는 가사 노동, 봉사 활동 등은 국내 총생산에 반영되지 않는다.


둘째, 삶의 질이나 복지 수준을 정확하게 측정하지 못한다. 생산 활동 과정에서 환경 오염이 발생하면 삶의 질이 떨어지지만 이러한 문제를 해결하는 과정에서 국내 총생산은 오히려 증가할 수 있다.

셋째, 소득 분배 상황이나 불평등 정도를 파악하기 어렵다. 국내 총생산은 한 나라의 전체적인 경제 규모만을 나타내는 지표이므로 소득이 누구에게 어떻게 분배되었는지 알 수 없다.

### 국내 총생산의 의미



\* 중간재 생산 과정에서 다른 재화를 생산하기 위해 사용하는 재화이다.



1 갑~정은 어떤 측면에서 국내 총생산의 한계를 말하고 있는지 아래 단어를 활용하여 설명해 보자.

- 환경
- 정신적 가치
- 시장 가치
- 분배

2 갑~정의 의견을 뒷받침할 수 있는 통계 자료 또는 사례를 찾아보자.

인터넷 국가통계포털(kosis.kr)에서 '소득 분배 지표 추이', '온실가스 배출량 변화', '삶의 만족도 변화' 등을 검색해 본다.

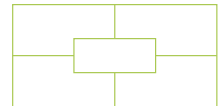


3 '잘 산다는 것'은 어떤 의미인지 토의해 보고, 무의 의견에서 ㉠에 들어갈 내용을 써 보자.

.....

**토의·토론 길잡이**

플레이스 메이트 토의



- 1 4명으로 구성된 모둠을 만들고, 바깥쪽 칸에 각자 '잘 산다는 것'은 어떤 의미인지 자신의 의견을 쓴다.
- 2 다른 모둠원의 의견과 그렇게 생각한 이유를 듣고 모둠의 공통된 의견을 정리하여 가운데 칸에 쓴다.
- 3 정리한 모둠의 의견을 발표한다.

**확인**

- 1 일정 기간 동안 한 나라 안에서 새롭게 생산한 최종 생산물의 시장 가치를 합한 지표는?
- 2 국내 총생산은 가사 노동처럼 ( )에서 거러되지 않는 경제활동의 가치는 반영하지 못한다.

# 2

## 물가 변동과 실업

### 미리보기

- 물가
- 물가 지수
- 물가 안정
- 실업
- 고용 안정

### 생각 썩



Q. 같은 금액으로 작년보다 더 적은 상품을 구입하게 된 이유는 무엇일까?

## 1 물가 변동은 우리 생활에 어떤 영향을 미칠까?

| 학습 목표 | 물가 변동의 사례를 탐색하고, 물가 변동이 우리 생활에 미치는 영향을 설명할 수 있다.

**물가의 의미** 한 상품의 가격 변화가 소비자와 생산자의 선택에 영향을 주는 것처럼, 전반적인 상품들의 가격 변화는 가계의 소비와 기업의 생산은 물론 국민 경제 전체에도 큰 영향을 미친다. 국민 경제의 안정을 위해서는 물가를 파악하는 것이 중요하다. 물가는 시장에서 거래되는 여러 상품의 평균적인 가격 수준을 말한다. 정부는 이러한 물가의 움직임을 구체적으로 측정하고자 물가 지수를 작성한다.

\*물가 지수 기준 연도의 물가 수준을 100으로 하여 비교할 연도의 물가 수준을 나타낸 것이다. 예를 들어 2022년의 물가 수준을 100으로 하여 2023년의 물가 지수를 작성했다면 105였다면, 물가 수준이 1년간 5% 상승했다는 뜻이다.



▲ 가격 개별 상품의 가치이다.

▲ 물가 여러 상품의 가격을 종합하여 평균한 것이다.

**물가 변동의 원인** 물가는 경제 상황에 따라 상승하기도 하고, 하락하기도 한다. 물가가 지속해서 오르는 현상을 인플레이션, 물가가 지속해서 내리는 현상을 디플레이션이라고 한다.

한 상품에 관한 수요와 공급의 변화로 시장 가격이 변동하는 것처럼 물가는 여러 상품에 관한 전체적인 수요와 공급에 따라 변동한다. 가계의 소비, 기업의 투자, 정부의 재정 지출 등이 증가하면 국가 경제 전체의 수요가 증가하는데, 국가 경제 전체의 공급이 이러한 수요에 미치지 못하면 물가는 상승한다.

임금, 원자재 등의 가격 변동으로 생산 비용이 변화하는 것도 물가 변동의 원인이다. 예를 들어 국제 원유 가격이 상승하여 생산 원가가 높아지면 많은 기업이 공급을 줄이므로 물가가 상승한다.

**물가 변동의 영향** 물가가 계속 오르면 정해진 돈으로 살 수 있는 상품이 줄어서 소비자의 부담이 커진다. 또 물가가 올라 생산 요소의 가격이 함께 상승하면 생산 비용이 늘어나 기업의 투자나 생산 활동도 위축된다.

한편, 예상하지 못한 물가 변동은 부와 소득을 의도하지 않은 방향으로 재분배한다. 인플레이션이 발생하면 화폐의 가치가 떨어지고, 실물 자산의 가치가 높아진다. 이에 따라 현금을 보유한 사람은 손해를 입고, 실물 자산을 가진 사람은 이익을 본다. 또 돈을 빌린 사람이 빌려준 사람보다 상대적으로 유리해져 부가 불공평하게 분배된다. 물가 변동은 국제 거래에도 영향을 준다. 물가가 상승하면 국내 상품의 가격이 외국 상품보다 상대적으로 비싸지므로 수출이 감소하고, 수입이 증가할 수 있다.

**보충+** 디플레이션의 영향



디플레이션은 기업의 생산 활동을 위축시켜 경기 불황을 가져올 수 있다. 기업의 생산 활동이 위축되면 고용이 감소하고, 가계의 소득 감소로 이어져 소비가 준다. 이는 기업의 재고 증가로 이어지고, 다시 기업의 생산 활동이 위축되어 악순환을 반복한다.

**물가 상승으로 울고 웃는 사람들**



**물가 안정을 위한 노력** 물가가 과도하게 변동하면 국민 경제가 건전하게 성장하지 못한다. 따라서 경제 주체들은 물가 안정을 위해 노력해야 한다.

정부는 재정 지출과 세금을 조절하는 정책을 펼치고, **중앙은행**은 시중에 유통되는 **통화량**과 **이자율**을 조절함으로써 물가 안정 대책을 마련한다. 기업은 기술 혁신으로 효율성을 높이고, **소비자**는 합리적인 소비 생활을 하며 물가 안정에 기여할 수 있다. 예를 들어 인플레이션이 우려되면 정부는 재정 지출을 줄이고, 조세를 늘리며, **공공요금** 인상을 억제하기도 한다. 중앙은행은 통화량을 줄이거나 이자율을 높임으로써 물가 안정을 유도할 수 있다.

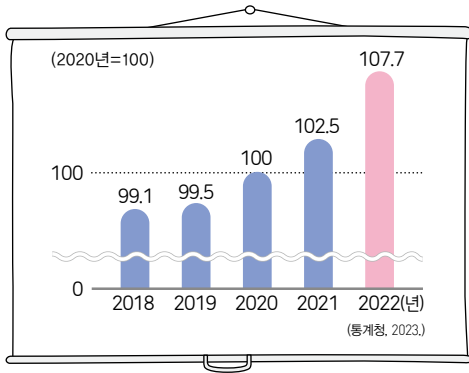
\* **중앙은행** 한 나라의 통화 제도의 중심이 되는 은행으로 화폐의 발행, 통화 정책 등을 실시한다. 우리나라의 중앙은행은 한국은행이다.

\* **통화량** 한 나라에서 실제로 사용되는 화폐의 양을 말한다.

\* **공공요금** 철도, 우편, 전화, 수도, 전기 등의 공익 사업과 관련된 요금을 말한다.




**자료 1** 소비자 물가 지수



소비자 물가 지수는 소비자가 구입하는 재화와 서비스의 물가 변동을 나타내는 물가 지수를 뜻하는데요. 이는 한 국가의 물가 수준을 파악할 수 있는 경제 지표로 사용됩니다. 통계청에 따르면 2022년에는 2020년 대비 소비자 물가가 약 8% 상승하였습니다. 이러한 물가 변동에 관한 시민들의 목소리를 들어보겠습니다.

**자료 2** 물가 변동의 영향



**1** [자료 1]을 참고하여 작년의 소비자 물가 상승률을 조사해 보자.

인터넷 국가통계포털(kosis.kr)에서 '소비자 물가 지수'를 검색해 본다.



**2** [자료 1]과 같은 물가 변동이 지속되면 우리 생활에 어떤 영향을 미치는지 생각해 보고, [자료 2]에 들어갈 알맞은 말을 써 보자.

㉠	
㉡	

**3** 2를 참고하여 물가 안정을 위해 노력해야 하는 이유를 말해 보자.



- 1** 물가가 지속해서 오르는 현상을 (인플레이션 / 디플레이션)이라고 한다.
- 2** 물가가 오르면 정해진 돈으로 살 수 있는 상품이 늘어 소비자의 부담이 적다. (○, ×)

## 2 실업은 우리 생활에 어떤 영향을 미칠까?

| 학습 목표 | 실업의 사례를 탐색하고, 실업이 우리 생활에 미치는 영향을 설명할 수 있다.

**실업의 의미와 원인** 많은 사람이 직업 생활을 하며 자아를 실현하고 경제적으로 안정된 생활을 유지한다. 그러나 직장을 구하지 못하거나 일자리를 잃게 되어 걱정하기도 한다. 이처럼 일할 의사와 능력이 있는데도 일자리를 구하지 못하는 상태를 **실업**이라고 한다. 실업은 원인에 따라 경기적 실업, 구조적 실업, 계절적 실업, 마찰적 실업으로 구분할 수 있다.

경제 상황이 좋지 않아 회사에서 많은 사람이 해고되었어요.



▲ 경기적 실업 경기 침체로 기업이 신규 채용을 줄이거나 고용을 줄이면서 발생한다.

자동화 기계가 도입되어 제가 할 일이 없어졌어요.



▲ 구조적 실업 산업 구조의 변화, 기술 발달 등으로 관련 부문의 일자리가 사라져서 발생한다.

여름에는 스키장을 운영하지 않으니 일이 없어요.



▲ 계절적 실업 계절의 영향을 받는 분야에서 계절의 변화에 따라 고용 기회가 줄어서 발생한다.

근로 조건이 더 나은 직장을 찾고 있어요.



▲ 마찰적 실업 직장을 옮기거나 새로운 일자리를 탐색하는 과정에서 일시적으로 발생한다.

**실업의 영향** 실업은 개인과 사회에 부정적인 영향을 준다. 개인적 측면에서 실업자는 생계를 유지하기 어렵고, 직업 생활을 하며 자아를 실현하거나 성취감을 얻을 기회가 없다. 실업 상태가 지속되면 자신감을 상실하고, 미래에 관한 불안감이 커져 정신적 고통을 겪을 수 있다.

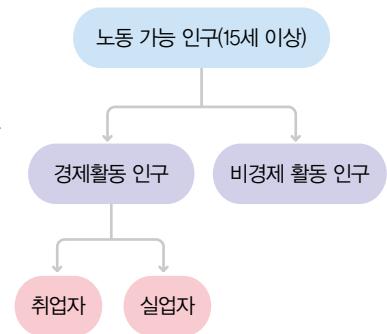
사회적 측면에서 실업은 <sup>\*</sup>인적 자원을 낭비하고, 경제 전반의 활기를 떨어뜨린다. 실업이 증가하면 생계형 범죄가 증가하거나 빈부 격차가 심화되는 등 사회가 불안해질 수도 있다.

\* 인적 자원 인간의 노동력을 생산 자원의 하나로 이르는 말이다.

### 더 알아보기 개념 실업률은 어떻게 알 수 있을까?

경제활동 인구는 15세 이상 인구 중 일할 의사와 능력이 있는 사람으로, 일자리가 있는 취업자와 일자리가 없는 실업자로 나뉜다. 일할 의사가 없는 학생, 가사 활동에 전념하는 전업주부, 일할 능력이 없는 노약자 등은 비경제 활동 인구로 분류한다. 실업률은 경제활동 인구 중에 실업자가 얼마나 되는지를 비율로 나타낸 것이다.

? 현재 우리나라의 실업률을 찾아보자.





▶ 취업 정보를 제공하는 것은 실업을 줄이는 데 도움이 된다.

**고용 안정을 위한 노력** 정부는 실업 문제를 해결하려고 다양한 정책을 시행하고 있다. 경기가 침체되어 실업이 발생하면 **재정 지출을 확대**하여 투자와 소비를 활성화하고, 기업의 고용을 촉진한다. 또 근로자에게 필요한 지식과 능력을 익힐 수 있도록 **직업 훈련을 지원**하고, **취업 정보를 제공**하여 근로자가 일자리 탐색에 들이는 시간과 비용을 줄이도록 돕는다.

한편, 기업은 새로운 시장을 개척하거나 일자리 창출을 위한 경영 방안을 모색하고, 근로자는 자기 계발을 통해 전문성과 업무 처리 능력을 높이고자 노력해야 한다.

**역량을 키우는 활동**

실업이 우리 생활에 미치는 영향 알아보기



**자료 1** 청년 4명 중 1명은 실업자

청년이 경제난에 무너지고 있다. 통계청에 따르면 실업자 외에 취업을 원하는 잠재 구직자까지 포함한 '청년 체감 실업률'이 2021년 23.1%를 기록했다. 이는 19~34세 청년 4명 중 1명이 실업자라는 뜻이다. 또 2020년에 한국여성정책연구원이 청년 6,570명을 대상으로 조사한 결과 여성 56.6%, 남성 52%가 "직장을 구하기 어려워졌다."라고 답했다.

- 『매일경제』, 2022. 9. 13.

**자료 2** 청년 일자리 도약 장려금 효과 특출

고용노동부에서 시행하는 '청년 일자리 도약 장려금'의 효과가 큰 것으로 나타났다. 청년 일자리 도약 장려금은 취업에 어려움을 겪는 청년을 대상으로 중소기업이 정규직으로 채용하고 고용을 유지하면 정부가 장려금을 지원하는 사업이다. 청주 고용센터에 따르면 청주에서는 838개 기업이 참여해 1,154명의 청년을 고용한 것으로 나타났다.

- 『충청일보』, 2022. 10. 6.

**1** [자료 1]에 나타난 문제가 개인과 사회에 어떤 영향을 미치는지 써 보자.

개인에 미치는 영향	사회에 미치는 영향

**2** [자료 2]를 참고하여 실업 문제를 해결하기 위한 정부의 정책을 찾아보자.

인터넷 > 고용노동부(www.moel.go.kr) > 정책 자료 > 대상자별, 분야별 정책에서 자료를 찾을 수 있다.



- 1 일할 의사와 능력이 있는데도 일자리를 구하지 못하는 상태는?
- 2 (구조적 / 계절적) 실업은 산업 구조의 변화, 기술 발달 등으로 관련 부문의 일자리가 사라져서 발생한다.

# ‘인공 지능(AI)과 일자리’ 두 가지 시선

4차 산업 혁명은 인공 지능(AI)과 자동화에 따른 산업 환경의 변화가 핵심이다. 인간의 일을 로봇이나 인공 지능이 대체하여 많은 실업이 발생할 것이라는 의견도 있고, 인공 지능의 발달로 전체 일자리가 증 가할 것이라는 전망도 있다.

임금 상승과 비대면 시대의 흐름에 따라 단순노동을 비롯한 일부 일자리는 이미 사라지고 있어요.

최근에 인공 지능은 글쓰기, 작곡, 컴퓨터 코드 작성까지 인간과 유사한 수준으로 해내고 있죠.

곧 인공 지능이 인간의 일자리를 모두 대체해 실업자가 대량으로 발생할 수 있습니다.



직업별 인공 지능으로 대체할 수 있는 비율

(단위: %)

직종	연도	2016년	2020년	2025년
관리		7.1	22.7	49.2
전문업		7.8	29.9	56.3
사무		10.2	32.2	61.3
서비스		13.7	45.2	75.9
판매		11.9	39.4	74.2
농림어업		17.8	53.8	86.1
기능		11	42.5	74.3
장치 및 기계 조작		11.7	50.4	79.1
단순노동		25.9	63.8	90.1

(한국고용정보원, 2016.)

인공 지능이 반복적인 일상 업무를 처리하면 근로자들은 고차원적인 업무를 수행할 수 있어요.

그리고 인공 지능과 로봇이 인간의 노동을 대체하기도 하지만,

오히려 새롭고 복잡한 노동을 만들어 내면서 전체 일자리는 늘어날 수 있죠.



이렇게 해 보자

위 자료를 읽고, 다음 질문에 답해 보자.

- 인공 지능의 발달로 사라지는 일자리와 새로 생기는 일자리는 무엇이 있을까?
- 미래 사회에 자신이 원하는 일자리를 얻기 위해 어떤 능력을 갖추어야 하며, 그 이유는 무엇일까?

# 3

## 국제 거래와 환율

### 미리보기

- 국제 거래
- 자유무역협정
- 환율

### 생각속



Q. 어제와 오늘의 티셔츠 구매 비용이 달라진 이유는 무엇일까?

## 1 세계화 시대에 국제 거래는 어떻게 이루어질까?

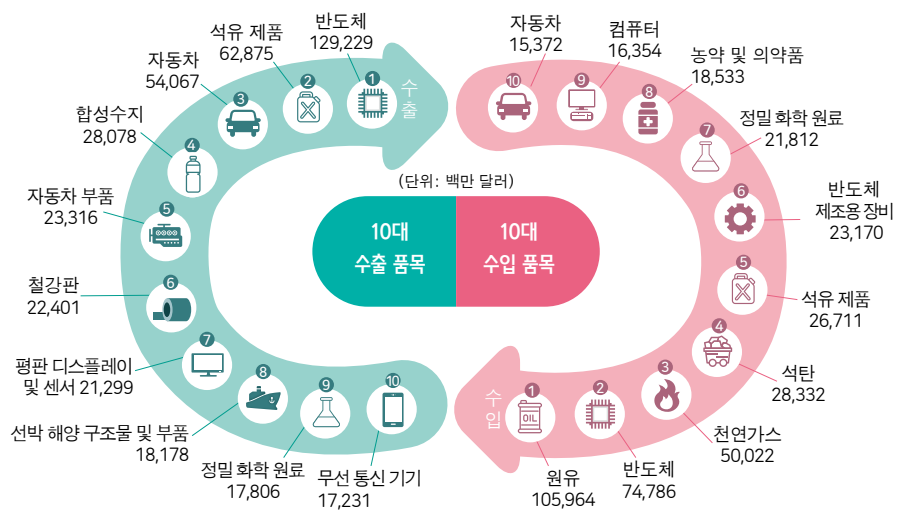
| 학습 목표 | 세계화 시대에 국제 거래가 이루어지는 사례를 탐색할 수 있다.

**국제 거래의 의미** 우리는 일상생활에서 외국에서 수입한 다양한 제품을 구매하여 사용하고 있으며, 우리나라에서 생산한 많은 상품을 해외로 수출하고 있다. 또한 근로자들이 일자리를 찾아 다른 나라로 이동하거나 우리나라로 오기도 한다. 이처럼 국가 간에 생산물이나 생산 요소가 거래되는 것을 **국제 거래**라고 한다.

**국제 거래의 필요성** 국제 거래는 국가마다 처한 환경이 다르기 때문에 발생한다. 각국은 기후나 지형 등의 자연환경이 다르고, 보유한 자원의 종류나 양을 비롯하여 노동, 자본, 기술 수준 등에도 차이가 있다. 이에 따라 각 나라에서 생산할 수 없는 상품도 있고, 다른 나라에 비해 생산비가 적게 들거나 많이 드는 상품도 있다. 따라서 각 나라는 생산에 유리한 것은 수출하고, 자국에서 생산되지 않거나 부족한 것은 수입함으로써 경제적 이득을 얻을 수 있다.

국제 거래를 통해 기업은 넓은 국제 시장을 확보하여 더 많은 이윤을 얻을 수 있고, 소비자는 다양한 상품을 저렴하게 살 수 있어 풍요로운 소비 생활을 할 수 있다.

우리나라 10대 수출입 품목(2022년)



▶ 한 국가의 주요 수출품과 수입품을 살펴보면 해당 국가의 자연환경과 노동, 자본과 같은 생산 요소의 분포, 기술 수준 등을 예상할 수 있다.

**국제 거래의 확대** 최근 세계화의 흐름 속에서 국제 거래 규모가 증가하고 있으며 거래 대상국도 다양해지고 있다. 과거에는 주로 재화를 중심으로 국제 거래가 이루어졌으나 최근에는 서비스, 자본, 노동의 거래에 이르기까지 그 종류도 다양해졌다.



▲ 우리나라의 자유무역협정 체결 현황

(관계청, 2023.)

지리적으로 가깝고 경제적으로 상호 의존도가 높은 국가들이 경제 협력을 강화하고자 지역 경제 협력체를 구성하거나 국가 간 **\* 자유무역협정(FTA)** 을 체결해 국제 거래를 활성화하려는 움직임도 늘어나고 있다.

**\* 자유무역협정(FTA)** 국가 간 자유로운 교류를 위해 관세 등의 무역 장벽을 없애거나 완화하는 협정으로 무역 자유화를 지향한다.

**역량을 키우는 활동** 국제 거래의 사례 탐색하기



**가**

외국의 열대 과일을 수입해서 다양한 과일을 먹을 수 있네.

**수입 과일**

필리핀산 망고, 팔리핀야산 오렌지, 칠레산 체리

**나**

이번 달에는 미국 주식 수익률이 좋네? 미국 주식을 더 많이 사야지.

**다**

우리나라 기업에서 만든 게임이 수출되어 외국인과 함께 게임을 즐길 수 있어.

Hi

**라**

우리 공장은 일손이 많이 필요해서 다양한 국적의 외국인 근로자를 고용하고 있어요.

1 (가)~(라)에서 국가 간에 무엇이 거래되고 있는지 써 보자.

(가)	(나)	(다)	(라)
-----	-----	-----	-----

2 (가)~(라)와 같이 오늘날 국제 거래가 이루어지는 다양한 사례를 찾아보자.



- 1 국가 간에 생산물이나 생산 요소가 거래되는 것을 ( )이라고 한다.
- 2 오늘날에는 재화에 한정하여 국제 거래가 이루어지고 있다. (○, ×)

## 2 환율 변동은 우리 생활에 어떤 영향을 미칠까?

| 학습 목표 | 환율 변동이 우리 생활에 미치는 영향을 조사할 수 있다.

### 보충+ 환율의 표현

환율은 어느 국가의 화폐를 기준으로 하나에 따라 다르게 표현할 수 있는데, 일반적으로 외국 화폐를 기준으로 표현한다. 주로 거래하는 외국 돈인 달러, 위안 등의 환율은 1,300원/달러, 180원/위안으로 표시한다.

☞ 함께 보기 ..... 48쪽  
수요와 공급에 따라 시장에서 상품의 가격이 결정되는 원리를 확인해 보자.

통화 CURRENCY	파실 때 YOUR SELLING	통화 CURRENCY	파실 때 YOUR SELLING
USD 미국	1,132.00	CNY 중국	166.80
JPY 일본(100)	871.00	HKD 홍콩	144.50
EUR 유로연합	1,255.50	THB 태국	30.05
		PHP 필리핀	22.90

▲ 환율 표시판 환율은 고정되지 않고, 수시로 변화한다.

**환율의 의미** 세계 각국은 각기 다른 화폐를 사용하므로 국제 거래에서는 화폐를 교환하는 과정이 필요하다. 이때 두 나라 사이의 화폐 교환 비율을 **환율**이라고 한다. 환율은 외국 화폐 1단위를 얻는 데 필요한 자국 화폐의 가격이며, 외국 화폐의 가격을 자국의 화폐 단위로 표현한 것이기도 하다. 예를 들어 대미(對美) 달러 환율이 1,300원이라는 것은 미국 돈 1달러와 우리나라 돈 1,300원을 서로 같은 가치로 교환한다는 의미이다.

**환율의 결정** 환율은 국내외 경제 상황에 따라 오르기도 하고 내리기도 한다. 재화와 서비스의 가격이 수요와 공급으로 결정되는 것처럼 환율도 외화의 수요와 공급으로 결정된다. 가령 달러화를 사려는 사람이 많아지면 달러화의 가격, 즉 환율이 상승하고, 반대로 달러화를 팔려는 사람이 많아지면 환율은 하락한다.

**환율 변동의 영향** 환율은 국가 경제나 개인의 생활에 큰 영향을 미친다. **환율의 상승**은 원화 가치의 하락을 뜻한다. 환율이 상승하면 외화로 표기되는 우리나라 상품의 가격이 하락하여 수출이 증가하지만, 수입품의 가격은 상승하여 수입이 감소한다. 또한 원화로 바꿀 수 있는 외화 금액이 줄기 때문에 해외여행을 하는 사람이 줄어들고, 유학 중인 가족에게 외화를 송금할 때에도 이전보다 부담이 더 커지게 된다. 반대로 우리나라에 여행이나 유학을 온 외국인의 부담은 줄어든다.

**환율의 하락**은 원화 가치의 상승을 뜻한다. 환율이 하락하면 외화로 표기되는 우리나라 상품의 가격이 상승하여 수출이 감소하고, 수입품의 가격은 하락하여 수입이 증가한다. 또한 원화로 바꿀 수 있는 외화 금액이 늘어나

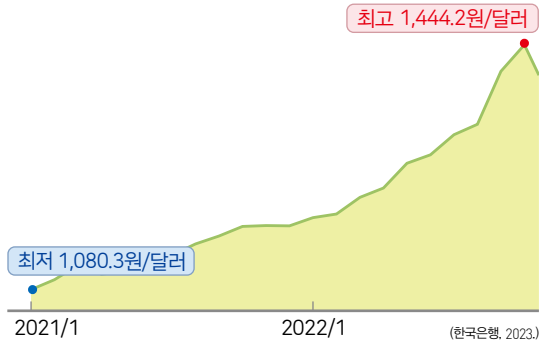
서 우리나라 사람들의 해외여행이 늘고, 외화 송금 시 원화 부담이 감소한다. 반대로 외국인 관광객은 줄어들고, 우리나라에 여행이나 유학을 온 외국인의 부담은 늘어난다.

### 보충+ 환율 변동과 원화 가치

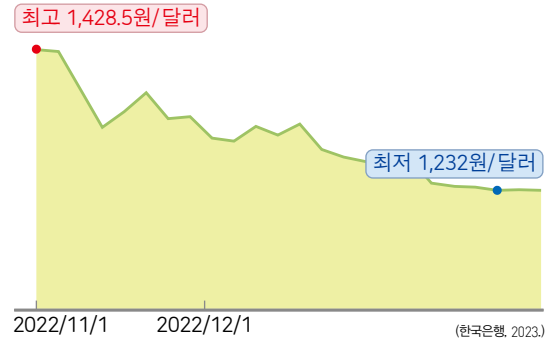


환율이 상승하면 외국 화폐 한 단위를 얻기 위해 이전보다 더 많은 원화가 필요해진다. 이는 외화의 가치가 높아지고, 원화의 가치가 낮아졌음을 뜻한다. 이처럼 환율과 원화의 가치는 반대로 움직인다.


**자료 1** 2021년~2022년 10월 원/달러 환율 변동 추이



**자료 2** 2022년 11월~2023년 1월 원/달러 환율 변동 추이



**자료 3** 환율 변동에 영향을 받는 사람들



1 [자료 1], [자료 2]의 상황이 계속될 때 유리한 사람과 불리한 사람을 [자료 3]에서 구분하여 써 보자.

**자료 1**

- 유리한 사람:
- 불리한 사람:

**자료 2**

- 유리한 사람:
- 불리한 사람:

2 [자료 1], [자료 2]와 같은 환율 변동 시 갭~정이 어떻게 반응할지 예상하여 모둠별로 역할놀이를 해 보자.

3 현재 우리나라 원/달러 환율을 찾아보고, 최근의 환율 변동이 우리 생활에 미치는 영향을 조사해 보자.

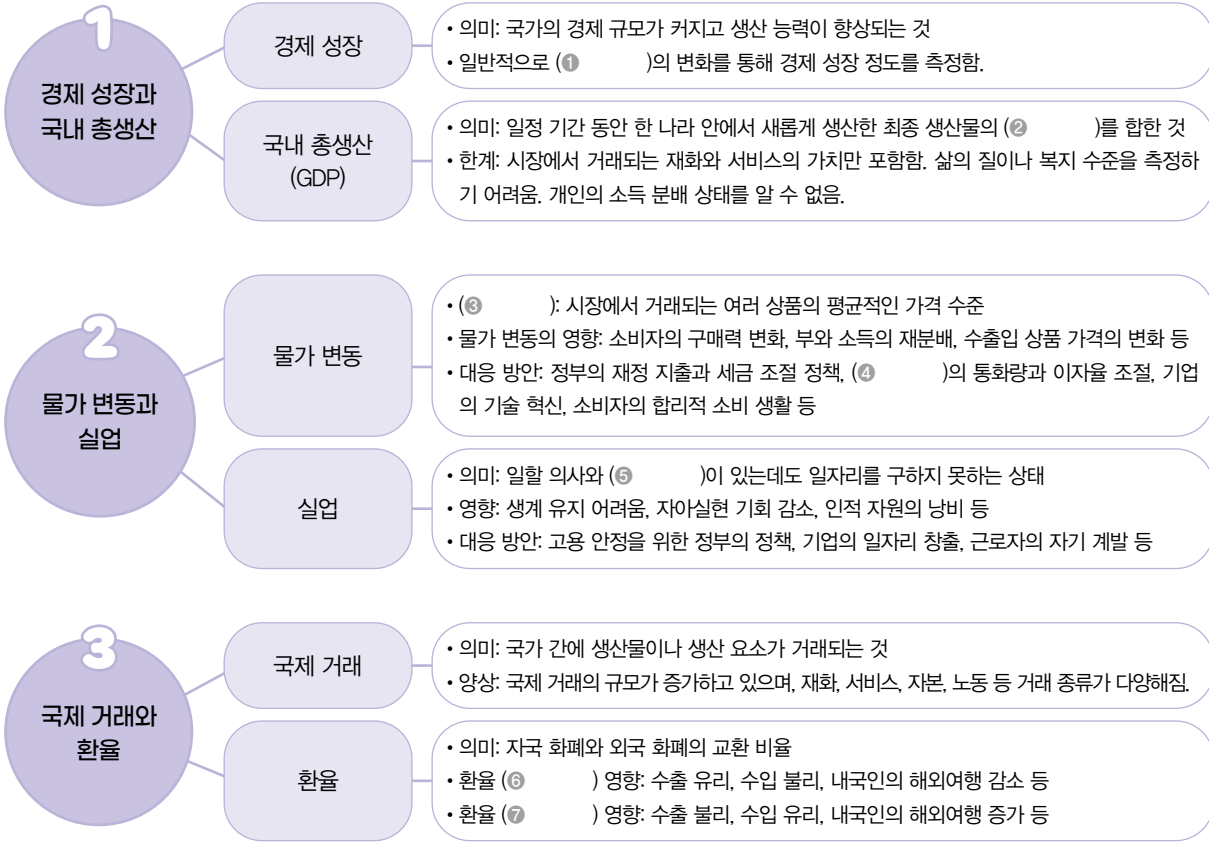


- 1 두 나라 사이의 화폐 교환 비율을 ( )이라고 한다.
- 2 환율이 ( 상승 / 하락 )하면 수출품의 가격 경쟁력이 떨어져 수출이 감소한다.



# 4 단원 마무리

## 배운 내용 정리하기



## 배운 내용 글쓰기

- 1 국내 총생산(GDP)의 의미와 한계를 서술해 보자.  
 \_\_\_\_\_  
 \_\_\_\_\_
- 2 최근의 물가 변동과 관련한 기사를 찾아보고, 물가 변동이 나의 생활에 미치는 영향을 서술해 보자.  
 \_\_\_\_\_  
 \_\_\_\_\_  
 \_\_\_\_\_
- 3 환율 상승 시 유리한 사람과 불리한 사람을 각각 제시하고, 그 이유를 서술해 보자.  
 \_\_\_\_\_  
 \_\_\_\_\_  
 \_\_\_\_\_

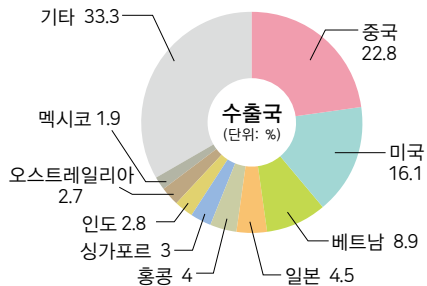
## 배운 내용 점검하기

- 국내 총생산(GDP)의 증가가 우리 생활에 미치는 영향을 설명할 수 있나요?  
 예  아니요  → 교과서 60~61쪽
- 물가 변동과 실업이 우리 생활에 미치는 영향을 제시할 수 있나요?  
 예  아니요  → 교과서 64~68쪽
- 국제 거래가 이루어지는 사례를 설명할 수 있나요?  
 예  아니요  → 교과서 70~71쪽
- 환율 변동이 우리 생활에 미치는 영향을 설명할 수 있나요?  
 예  아니요  → 교과서 72~73쪽

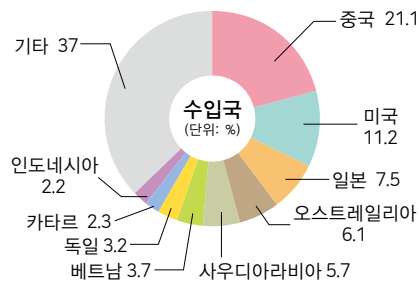
**들어가기**

세계무역기구(WTO) 통계에 따르면 2022년 우리나라의 무역 규모는 세계 6위이다. 우리나라는 다양한 국가와 국제 거래를 하고 있으며, 주요 무역국들의 경제 상황은 우리 경제에 큰 영향을 미치고 있다.

우리나라 주요 수출국과 수입국(2022년)



(한국무역협회, 2023.)



(한국무역협회, 2023.)

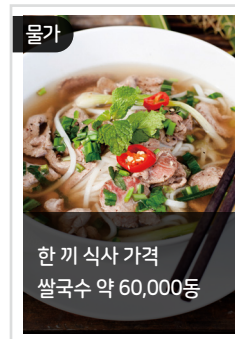
**활동하기**

활동 방법을 보고, 무역국의 경제 상황과 관련한 카드 뉴스를 만들어 보자.

**활동 방법**

- 모둠별로 논의하여 우리나라 주요 수출국과 수입국 중 한 곳을 선택한다.
- 선택한 국가의 경제 상황과 관련하여 조사할 주제와 내용을 정하고, 모둠 내에서 역할을 나눈다.
- 모듬원은 각자 맡은 주제를 조사하여 1~2장의 카드를 만든다.
- 모든 모듬원이 만든 카드를 연결하여 카드 뉴스를 완성하고, 발표한다.

**예** 베트남



**평가하기**

배운 내용을 되돌아보고, 평가해 보자.  우수  보통  미흡

**자기 평가**

선택한 국가의 경제 상황을 조사하였나요?



카드 뉴스로 알아보기 쉽게 표현하였나요?



**동료 평가**

각자 맡은 주제를 충실하게 조사하였나요?



다른 모듬의 발표를 경청하였나요?

